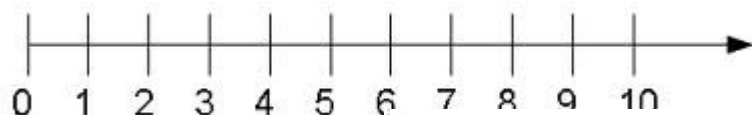


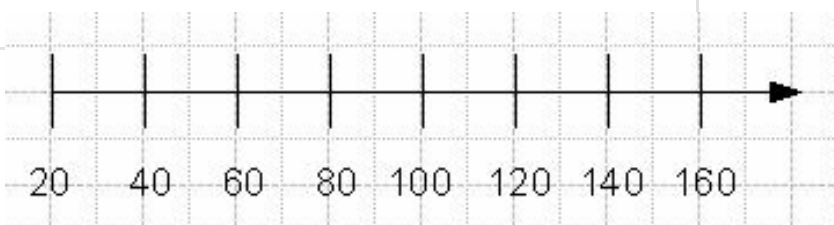
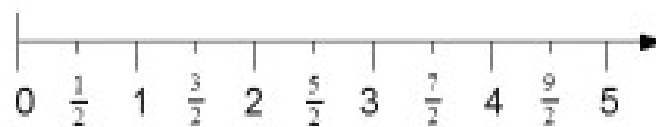
Name: _____

25.10.2012

Stellenwerttabelle und Zahlenstrahl



Trage folgende
Zahlen oder
Zahlwörter in die
Stellenwerttabelle ein:



Dreiundvierzigtausendsiebenhundertunddreizehn

1,87 €

Eintausendeinhundertundelf

0,500 m

Neunundneunzig

0,333 l

Fünf

Einhundertfünfundzwanzig

Entscheide, welche Zahlen sich ganz einfach an einem Zahlenstrahl im Heft darstellen lassen und kreuze diese Zahlen an.

Fertige für jede Zahl einen eigenen Zahlenstrahl an und trage die Zahl, sowie eine größere oder kleinere Zahl.

Ich behaupte, es geht mit allen Zahlen, das ist aber nicht mehr einfach! Schafft ihr das auch?

Viel Spaß und viel Erfolg