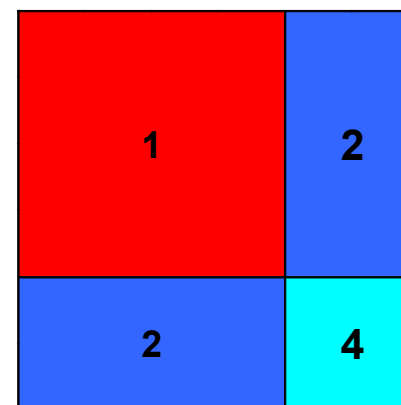

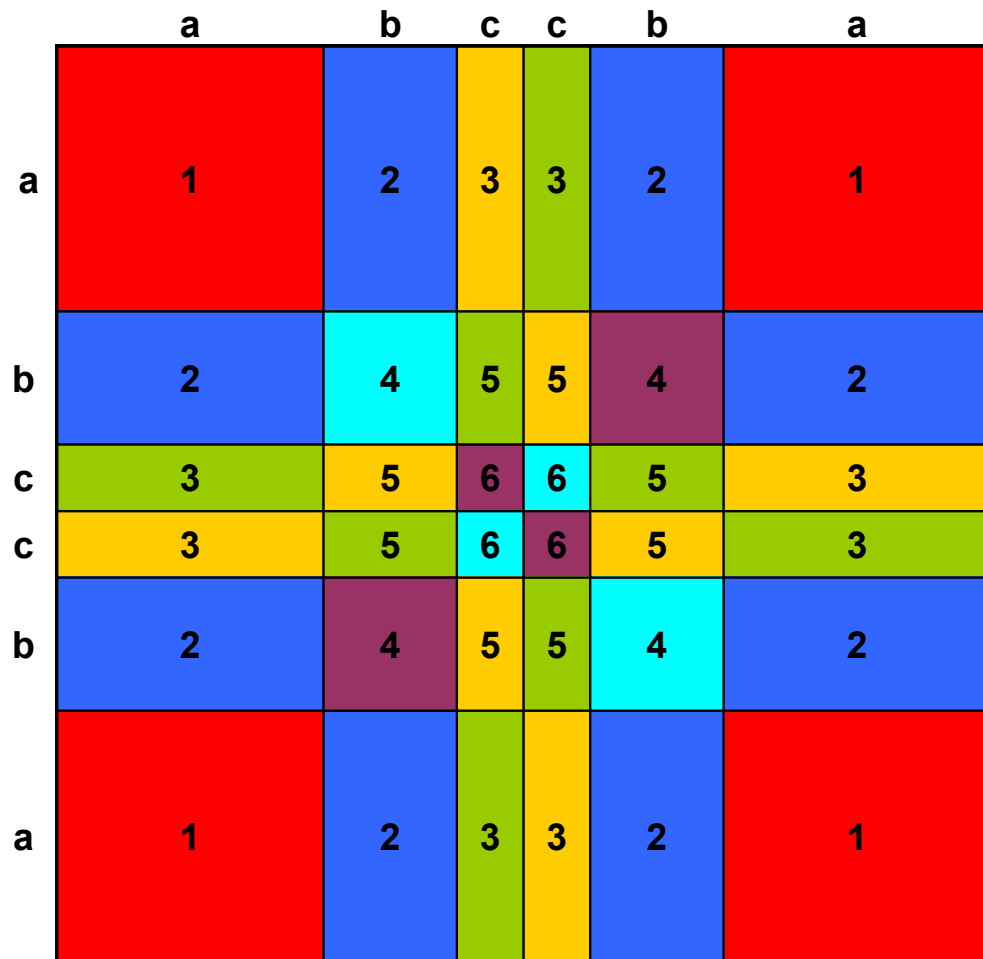


Name: _____

22.02.2016



Kunstterme
Gleiche Figuren haben gleiche Zahlen

1. Welchen Flächeninhalt hat das komplette Bild?
2. Welchen Flächeninhalt haben die Teilflächen 1 – 6?
3. Welchen Umfang haben die Teilflächen 1 – 6?
4. Welche Umfänge und Flächeninhalte haben die Bildausschnitte rechts neben dem Bild?
5. Finden Sie einen Term mit zwei Variablen für den Flächeninhalt des quadratischen Bildausschnitts.

a = 4 cm
 b = 2 cm
 c = 1 cm

Nach einer Kunstidee von Richard Paul Lohse [13.09.1902 - 16.09.1988]